

**AULA:** Registros da História: entendendo o passado.

**Data:** 20/04/2020 – 6 AVA

**Ano:** 6ºAVA e  
6ºAVB

23/04/2020 – 6 AVA/AVB

**Professor(a):** Socorro Batista

**CORREÇÃO**

**BOM ESTUDO!**

## ATIVIDADE DE HISTÓRIA

### Correção de atividades

- Esta atividade foi encaminhada no dia 23 e 24/03/2020. **OBS:** Direcionamentos para a apostila: responder as atividades das páginas 475 até 477.

1- No **Período Paleolítico** os grupos humanos começaram a utilizar utensílios de chifres de animais ou de rochas para desenvolverem a caça e se protegerem de outros grupos nômades, formando objetos pontudos – ou lascas por isso essa era também era chamada de :

- (  ) Idade da Pedra lascada.
- (  ) Idade Pedra rodada
- (  ) Idade da Pedra poida
- (  ) Idade da Pedra hominídea.

2. Aponte alguns utensílios utilizados pelos primeiros grupos humanos:

Assinale a alternativa correta:

- (  ) faca e pontas de lanças.
- (  ) somente facas
- (  ) somente raspadores
- (  ) somente pontas de lanças.

3- Encontre no caça-histórico as palavras que complete as frases.

Nômades	rupestre
Paleolítico	sedentário

A - Primeiro período da Pré-História, teve inicio a cerca de 5 milhões de anos atrás. **Paleolítico**

B - Por não terem um local de habitação fixo, os grupos hominídeos do paleolítico podem ser chamados de **nômades**.

C - Pintura encontrada nas paredes das cavernas **rupestre**.

D - Que tem uma morada fixa em uma região **sedentário**.

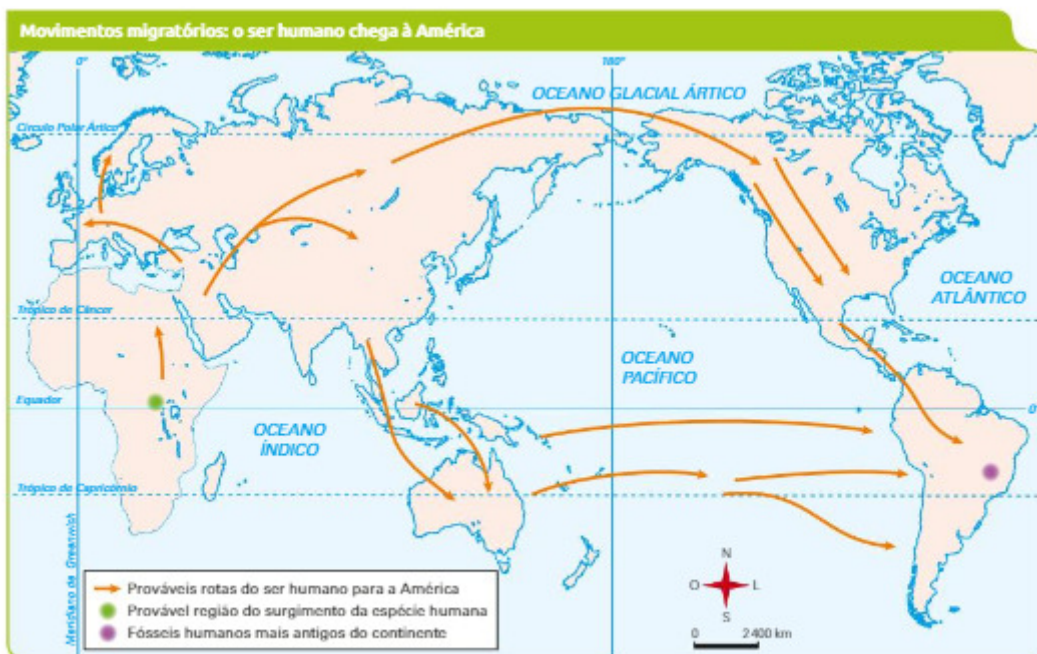
4- Para obter boas condições de vida, o **homem neolítico** procurava moradia próximo aos rios com a intenção de:

- (  ) utilizar a terra fértil para a agricultura.
- (  ) pescar com mais facilidade.
- (  ) pegar água com mais facilidade para preparar os alimentos.
- (  ) porque eles acreditavam ser uma área fértil.

## - QUESTÕES DO MATERIAL DIDÁTICO – Unidade II

### P. 475

1- Observe o mapa sobre as possíveis rotas do povoamento do continente americano. Elabore um texto sobre esse conteúdo.




Fonte: <www.klickeducacao.com.br/simulados/simulados\_mostra/0,7562,POR-12682-44-114-2006,00.html>. Acesso em: 28 jan. 2018.

Atividade textual. O aluno deverá pesquisar as três teorias mais aceitas para responder à questão (Iremos corrigir presencialmente quando retornarmos).

### P. 476

2- Identifique os objetos representados no quadro e indique a quais períodos estão relacionados.



Cerâmica: Neolítico




Tear: Neolítico



Instrumentos de pedra polida: Neolítico

G. Dógl. OriDe Agostini/Getty Images.  
Ed to rei/Alamy/Polarena.  
Javier Trueta/MSFSP\_Jatiratok

3- Observe a imagem. De acordo com o que ela retrata e com base no que estudou, que mudanças podemos identificar nos homens do passado?



O aluno deve e comentar as transformações físicas e comportamentais vivenciadas pelos primeiros seres humanos na Pré-História.

4- Para fazer esta atividade, destaque o material disponível ao final deste caderno. Faça uma linha do tempo de acordo com o período a que corresponde cada um desses indivíduos e, com base nos mapas, localize-os geograficamente. Para construí-la, recorte os encartes com as informações correspondentes.

Iremos corrigir presencialmente quando retornarmos.

### P. 476

5- Complete os quadros com as características do homem do Paleolítico.



6- Com base nos conhecimentos que você adquiriu sobre a Pré-História, pode-se afirmar que os primeiros seres humanos não se comunicavam? Comente sua resposta.

Resposta pessoal: No entanto, segue sugestão: **É importante perceber que o fato de os seres humanos pré-históricos não terem desenvolvido a escrita não significa que eles não se comunicavam. A arte rupestre é uma forma de comunicação. Com base nesses registros, podemos estudar sobre o cotidiano dos indivíduos pré-históricos.**