







<b>Aluno (a):</b>	<b>Data:</b> 02 / 04 /2020	<b>Turma:</b> 1º Ano AMA / AVA
<b>Professor (a):</b> Antônia Euranice	<b>ESTUDO DIRIGIDO</b>	<b>BOM ESTUDO!</b>

## VAMOS CONTAR?

Observe estes quadros e preencha o quadrinho de acordo com a quantidade de figuras que estão ao lado das crianças:

BETO	VÍTOR	OLÍVIA
  <input type="text"/>	  <input type="text"/>	  <input type="text"/>

1. Agora, responda:

a) Assinale a sequência **correta** dos numerais encontrados.

2, 3, 5     3, 4, 3     1, 6, 5

b) Quais são as crianças que possuem a mesma quantidade de figuras?

---

c) Somando-se o número de bichinhos que Beto e Olívia possuem, qual é o número de flores que faltam para que Vítor tenha essa mesma quantidade?

---