

Aluno (a):

Data: 12/ 06 /2020

Turma 1º Ano AMA/ AVA


Professor (a): Antônia Euranice

ESTUDO DIRIGIDO

BOM ESTUDO!

Objetivo: Reconhecer figuras cujos nomes iniciam com a letra F.

1. Pinte apenas as figuras que iniciam com a letra F.



2. Leia as sílabas abaixo, complete o nome dos desenhos e escreva a palavra que você formou.

FA

FE


FI

FO

FU



_____sforo



_____ta



_____maça



_____go



_____rro



_____brica

Aluno (a):

Data: 09/ 06 /2020

Turma 1º Ano AMA/ AVA

Professor (a): Antônia/ Elyonara

ESTUDO DIRIGIDO

BOM ESTUDO!

Objetivo: Reconhecer e escrever os números até 100.

1. Observe:

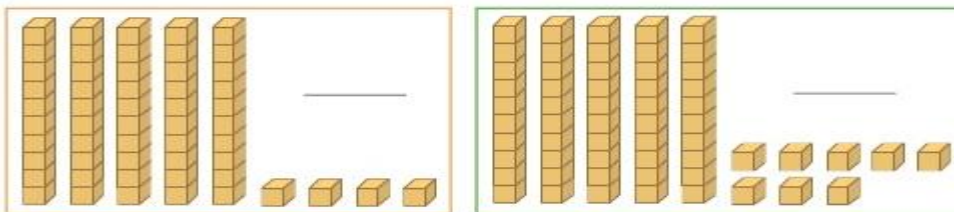
Assinale o time que está vencendo.



Águias

Tigres

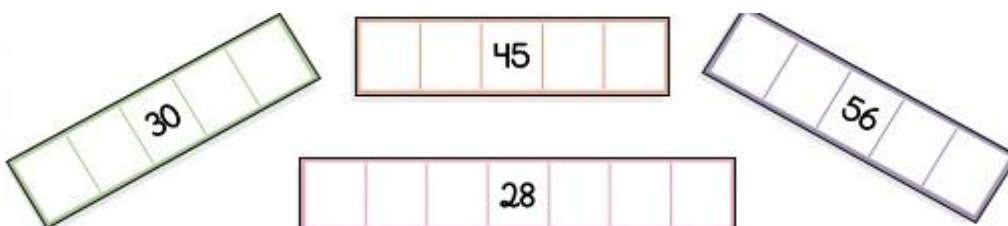
2. Quais números estão representados no material dourado?



3. Continue escrevendo em ordem do número trinta (30) até o número cinquenta e nove (59).

30	31							38	
40			43						
	51								

4. Complete com os números que estão faltando.



Aluno (a):

Data: 10/06/2020

Turma 1º Ano AMA/AVA

Professor (a): Antônia / Elyonara

ESTUDO DIRIGIDO

BOM ESTUDO!

Festa popular

Festa, cultura e diversão... Assim são as **festas populares** que acontecem em muitas regiões do Brasil e também pelo mundo afora.

A principal característica dessas festas é a demonstração dos aspectos culturais de uma região com a participação de um número maior de pessoas. Acontecem ao ar livre, nas ruas, praças ou estádios, envolvendo muitas vezes uma cidade inteira. São marcadas também pela demonstração das tradições regionais, rituais religiosos, comidas, músicas, danças e roupas típicas.

1. Existem várias festas que acontecem ao ar livre, nas praças ou ruas.

Observe as imagens a seguir e pinte somente aquelas que se referem a festas que acontecem ao ar livre.



2. Que outros tipos de festas culturais você conhece? Cite.
