

AULA: Operações.

Data: 07\04\2020

2º ano

Professor (a): Valéria Felizardo/ Karla Suzane

Aluno(a):

ESTUDO DIRIGIDO

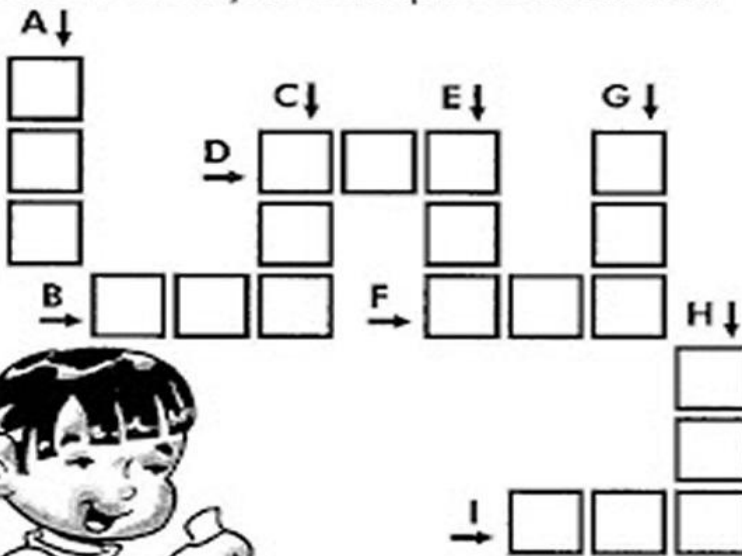
BOM ESTUDO!

Operações: Adição e subtração.

Orientações:

- Use o material didático (apostila) como apoio para estudo direcionado. Págs. 26 e 30
- Realizar atividade no material didático págs.47, 48 e 49.
- Realizar atividade xerocada e colar no caderno de matemática.

Resolva as adições e complete a cruzadinha:



A crossword grid with the following directions:

- A**: Down (3 cells)
- B**: Right (3 cells)
- C**: Down (3 cells)
- D**: Right (3 cells)
- E**: Down (3 cells)
- F**: Right (3 cells)
- G**: Down (3 cells)
- H**: Down (3 cells)
- I**: Right (3 cells)



(A)

| C | D | U |
|----|---|---|
| 1 | 2 | 4 |
| +2 | 5 | 1 |
| | | |

(B)

| C | D | U |
|----|---|---|
| 2 | 3 | 5 |
| +4 | 1 | 3 |
| | | |

(C)

| C | D | U |
|----|---|---|
| 5 | 2 | 6 |
| +4 | 0 | 2 |
| | | |

(D)

| C | D | U |
|----|---|---|
| 8 | 4 | 6 |
| +1 | 2 | 1 |
| | | |

(E)

| C | D | U |
|----|---|---|
| 6 | 4 | 2 |
| +1 | 0 | 4 |
| | | |

(F)

| C | D | U |
|----|---|---|
| 2 | 0 | 4 |
| +4 | 3 | 5 |
| | | |

(G)


| C | D | U |
|----|---|---|
| 7 | 2 | 4 |
| +1 | 3 | 5 |
| | | |

(H)

| C | D | U |
|----|---|---|
| 1 | 2 | 4 |
| +4 | 6 | 1 |
| | | |

(I)

| C | D | U |
|----|---|---|
| 2 | 4 | 3 |
| +5 | 3 | 2 |
| | | |



AULA: Operações

Data: 07\04\2020

2º ano


Professor (a): Valéria Felizardo/ Karla Suzane

Aluno(a):

ESTUDO DIRIGIDO

BOM ESTUDO!

1. ENTEDEMOS QUE SUBTRAIR É O MESMO QUE RETIRAR! RESOLVA AS OPERAÇÕES A SEGUIR.



6

$6 - 4 = \underline{\quad}$

$6 - 5 = \underline{\quad}$ $6 - 3 = \underline{\quad}$

$6 - 0 = \underline{\quad}$ $6 - 2 = \underline{\quad}$

$6 - 1 = \underline{\quad}$

7

$7 - 5 = \underline{\quad}$

$7 - 6 = \underline{\quad}$ $7 - 4 = \underline{\quad}$

$7 - 7 = \underline{\quad}$ $7 - 3 = \underline{\quad}$

$7 - 2 = \underline{\quad}$

$7 - 1 = \underline{\quad}$

8

$8 - 5 = \underline{\quad}$

$8 - 6 = \underline{\quad}$ $8 - 4 = \underline{\quad}$

$8 - 7 = \underline{\quad}$ $8 - 3 = \underline{\quad}$

$8 - 8 = \underline{\quad}$ $8 - 2 = \underline{\quad}$

$8 - 1 = \underline{\quad}$