

AULA: Relógio. (Unidade 4)

Data: 16/04/2020

3º AVA

Professor (a): Dayane Dantas

ESTUDO DIRIGIDO

**BOM ESTUDO!**

**Orientações:**

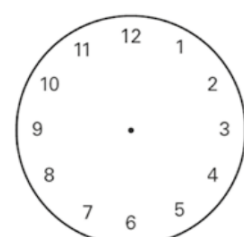
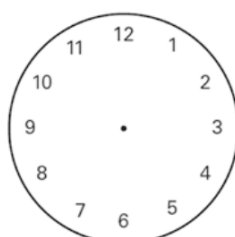
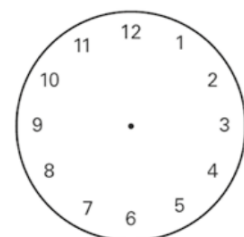
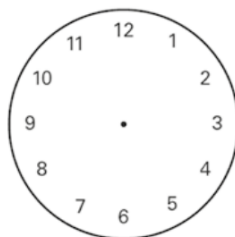
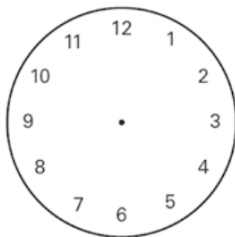
- Usar o material didático (apostila ) como apoio para o estudo dirigido;
- Realizar a leituras das páginas 81 a 83.
- Complementar o estudo, com a realização dos exercícios das páginas 84 e 85.

**Objetivo:** Compreender que as unidades de medidas de tempo, dia, horas e minutos representam uma quantidade de tempo.

1- O relógio é um aparelho que marca as horas, os minutos e os segundos. Em nossa escola, temos de cumprir os horários de entrada e de saída de cada turno. Observe a tabela.

	ENTRADA	INTERVALO	SAÍDA
MATUTINO	7h 15 min	9h 30 min	11h 45min
VESPERTINO	13h 15 min	15h 30 min	17h 45 min

2- Agora, de acordo com a tabela apresentada, marque, nos relógios analógicos, a posição correta dos ponteiros para representar os horários de entrada, intervalo e saída.



3- Uma partida de futebol começou às 13 horas e é dividida da seguinte maneira:

- 1º tempo com duração de 45 minutos;
- Intervalo de 15 minutos;
- 2º tempo com duração de 45 minutos.

a) Ao todo, qual é o tempo de duração da partida em horas e minutos?

---

b) Que horário essa partida de futebol terminará?

---

4- Leia a caixa de texto abaixo, em seguida responda.



O PONTEIRO MENOR REPRESENTA AS HORAS E O PONTEIRO MAIOR OS MINUTOS. 1 HORA TEM 60 MINUTOS, MEIA HORA TEM 30 MINUTOS. PARA CONTAR O MINUTOS É MAIS FÁCIL VOCÊ CONTAR DE CINCO EM CINCO.

VAMOS EXERCITAR?

MARQUE NOS RELÓGIOS ABAIXO AS HORAS INDICADAS:

11h30min	10h45min	8h	7h15min
