




DISCIPLINA: CIÊNCIAS. 4AMA E 4AVA  
ASSUNTO: CORREÇÃO  
PROFESSORAS: CRISTIANA E LUCIMAR

CORREÇÃO DO DIA 07/04 EM FOLHA  
DIA 17/04 EM FOLHA  
DIA 24/04 EM FOLHA

1 . Na natureza as substâncias podem ser encontradas em três estados físicos principais: sólido, líquido e gasoso. Observe as imagens abaixo, e responda as questões em seguida.



a) Em que estado está o gelo da vasilha? .....

b) E a água no copo? .....

c) E o vapor que desprende da água fervendo? .....


d) O gelo derreteu. A água passou do estado ..... para o estado ..... Essa mudança de estado chama-se .....

2. Agora complete e escreva o nome dado as mudanças no estado físico das substâncias.

a) A água está fervendo.

b) Ao ser aquecida, a água passou do estado ..... para o estado .....

c) Essa mudança de estado chama-se .....



3. Para a mudança de estado da água acontecer, é necessário o frio e o calor!


Responda a seguir, se água necessita de **frio ou de calor**.

a) do sólido para o líquido, a água necessita de .....

b) do gasoso para o líquido, a água necessita de .....

c) do líquido para o gasoso, a água necessita de .....

d) do líquido para o sólido, a água necessita de .....

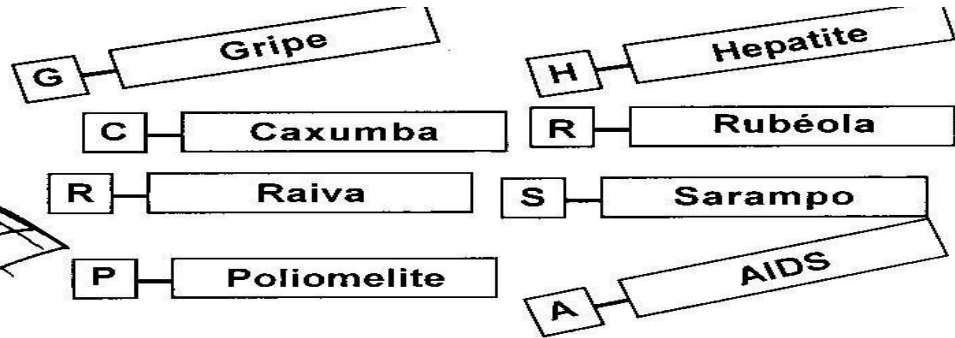



4. Faça a correspondência quanto às mudanças do estado da água. Ligue-as.

- (1) fusão
- (2) solidificação
- (3) vaporização
- (4) condensação

- líquido para o gasoso
- gasoso para o líquido
- sólido para o líquido
- líquido para o sólido

Observe os nomes das doenças nos quadros abaixo e identifique-as abaixo usando a primeira letra.



- Doença que causa resfriado, dor no corpo e febre.
- Doença que causa febre e faz o corpo ficar cheio de pintinhas vermelhas.
- Doença causada pela inflamação das parótidas.
- Doença que provoca a paralisia infantil.
- Virose muito grave, que é transmitida, geralmente pelo cão ao homem.
- Os sintomas da doença são fígado aumentado, febre e urina escura.
- Doença que causa febre eruptiva, parecida com o sarampo.
- Virose que impede o organismo de lutar contra infecções, causando a morte.

A alimentação é um dos itens essenciais a vida de todos os seres vivos. Para isso precisamos ter uma alimentação ***balanceada e rica em nutrientes***.

1. Com a ajuda de um adulto, pesquise e responda:

a) Quais alimentos são ricos em proteína.

---

b) Quais alimentos são ricos em açúcares.

---

c) Quais alimentos são ricos em gordura.

---

d) Em quais alimentos as vitaminas são encontradas em maior quantidades.

---

e) Quais alimentos contêm sais minerais.

---

f) Qual a importância da água para o organismo humano.

---