



ROTEIRO DE ESTUDO PARA ESTUDO PROFESSORA CRISTIANA
PERIODO DE 01 À 05/06/2020

DISCIPLINAS	Conteúdo de estudo	Material para estudo
PORTUGUÊS 01/06	<ul style="list-style-type: none">➤ CONTEÚDO: Momento gramática (grau do substantivo)➤ Ler com atenção as páginas: 79 a 83. Em seguida responda as questões propostas nas páginas lidas.➤ Atividade em folha	Unidade 4 1 apostila
MATEMÁTICA 01/06	<ul style="list-style-type: none">➤ CONTEÚDO: Multiplicação: (idéias de multiplicação)➤ Ler com atenção e responder as questões das páginas 4 e 5.➤ Atividade em folha	Unidade 5 Apostila nova
HISTÓRIA 03/06	<ul style="list-style-type: none">➤ CONTEÚDO: Praticando a agricultura, tornando-se sedentário. Leia com atenção o texto das páginas: 06 e 07➤ Atividade em folha	Unidade 3 Apostila nova
GEOGRAFIA 04/06	<ul style="list-style-type: none">➤ CONTEÚDO: Paisagens do campo.➤ Ler com atenção as páginas 06 e 07➤ Atividade em folha	Unidade 3
CIÊNCIAS 05/06	<ul style="list-style-type: none">➤ CONTEÚDO: Decompositores➤ Leia com atenção a página 08 e responda as questões da página 09	Unidade 3

Aluno(a):

Data:
01/06

4 ANO

Professora: CRISTIANA SALES

ROTEIRO DE
ESTUDO

BOM ESTUDO!

Hoje iremos realizar uma atividade sobre aumentativo.

1. Observe os grupos de palavras, e marque aquela que **não** está no grau aumentativo.



2. Você marcou nos grupos acima as palavras que **não** são consideradas aumentativos. Busque no dicionário o significado delas e escreva o conceito de cada uma.

- a) _____
- b) _____
- c) _____
- d) _____
- e) _____
- f) _____
- g) _____
- h) _____
- i) _____

Aluno(a):

Data:
01/06

4 ANO




Professora: CRISTIANA SALES

ROTEIRO DE
ESTUDO

BOM ESTUDO!

VAMOS PRATICAR A MULTIPLICAÇÃO E A DIVISÃO!

RECORTE E COLE AS FICHAS ENCAIXANDO NO LUGAR CORRETO OS RESULTADOS. MÃOS À OBRA!

4	X		=	32			:	4	=	3
	X	7	=	21			:	3	=	8
4	X	9	=				:	4	=	5
	X	5	=	20			:	3	=	2
3	X	6	=				:	3	=	3
4	X		=	16			:	3	=	9

4	6	18	36	3	12
20	27	16	8	24	9

Aluno(a):

Data:
03/06

4 ANO

Professora: CRISTIANA SALES

ROTEIRO DE ESTUDO

BOM ESTUDO!

Sabemos que aos poucos os nômades foram se tornando sedentários.




1. Analise a imagem abaixo e responda:

Os instrumentos representados pela imagem ao lado foram fabricados em pedra _____ e _____, e eles são oriundos de diferentes períodos pré-históricos e de várias regiões do mundo. **Assinale a alternativa que preenche as lacunas acima:**

- a. () lascada e polida b. () lisa polida
c. () quebrada e polida d. () raspada e polida

2. Analise a imagem abaixo:



Essa imagem representa: **Assinale apenas uma alternativa.**

- a. () A evolução humana.
b. () Como os macacos se parecem com os seres humanos.
c. () Como a cor da pele dos seres humanos foi alternando ao longo dos anos.
d. () Como o ser humano foi ficando mais alto ao longo dos anos.

3. Observe a imagem:

I. A imagem I, representa o Homo Erectus e a

Imagem I



Imagem II



imagem II, representa o Homo Sapiens.

II. A imagem I, representa o Homo Sapiens e a

imagem II, representa o Homo Erectus

III. As imagens I e II representam o Australopithecus.


IV. As imagens I e II representam o Homo Habilis.

Está correta:

- a. () I b. () II c. () III d. () IV

4. Faça a leitura das pistas ao lado, em seguida, selecione as palavras na caixa acima da cruzadinha para preenchê-la corretamente.

Neolítico, Paleolítico, Mulheres, Cavernas, Idade dos metais, Nômade, Sedentarismo, feijão



Aluno(a):

Data:
04/06

4 ANO

Professora: CRISTIANA SALES

ROTEIRO DE
ESTUDO

BOM ESTUDO!

Estamos estudando sobre paisagens do campo. No campo ou espaço rural existem paisagens bem diferentes das que vemos nas cidades.

Observe as gravuras abaixo, observe as diferenças e responda as questões.



Fotos da avenida Paulista , São Paulo antiga,
tiradas entre 1902 e 1927
Foto : Guilherme Gaensly

Foto avenida Paulista , São Paulo de 1999 Foto: Luiz Aureliano

fonte: www.geobrasil2001.hpq.ig.com.br e cafehitoria.ning.com/photo/photo

1-) O trabalho das pessoas é importante na formação das paisagens urbanas ou rurais, que podem trazer mudanças na paisagem e vão refletir no modo de viver no campo e na cidade. Observando as fotos da Avenida Paulista antiga e a atual responda:

a-) Que mudanças ocorreram na paisagem da Avenida Paulista com o passar dos anos ? Por quê? Essas mudanças na paisagem foram feitas por quem?

b-) Assinale (v) se a informação for verdadeira ou (f) se a informação for falsa:

- () A cidade e o campo são diferentes no trabalho e no modo de viver e, por isso, não há ligação entre os dois.
- () A relação entre a cidade e o campo é importante e um depende do outro para crescer economicamente.