



**ROTEIRO DE ESTUDO.**  
**PROFESSORA CRISTIANA. (PERÍODO DE 13/04 A 17/04/2020)**

<b>DISCIPLINAS</b>	<b>Conteúdo de estudo</b>	<b>Material para estudo</b>
<b>PORTUGUÊS</b>	<ul style="list-style-type: none"><li>➤ CONTEÚDO: Dígrafos pág.56</li><li>➤ <b>DÍGRAFOS-</b> É o encontro de duas letras que são usadas para representar um único som, ou seja, uma única emissão de som. São exemplos de dígrafos(XC, XS, SC,S Ç, LH, NH,RR, SS, CH, QU, GU.</li><li>➤ Págs. 56 a 58 (segunda-feira)-13/04</li><li>➤ Atividade em folha- dígrafos (sexta-feira)-17/04</li></ul>	Unidade 3
<b>MATEMÁTICA</b>	<ul style="list-style-type: none"><li>➤ CONTEÚDO: Perímetro</li><li>➤ <b>PERÍMETRO-</b> É a medida do contorno de uma figura geométrica e pode ser obtido pela soma dos lados de um polígono. Assistir vídeo aula no <b>you tube da professora Angela (perímetro de figuras geométricas)</b></li><li>➤ Atividade sobre perímetro (segunda-feira)-13/04</li><li>➤ Problemas envolvendo perímetro (terça-feira)- 14/04</li><li>➤ Atividade em folha (quarta-feira)- 15/04</li></ul>	Unidade 4
<b>HISTÓRIA</b>	<ul style="list-style-type: none"><li>➤ CONTEÚDO: Fazendo um fôlder pág. 34</li><li>➤ Ler com atenção e observar as imagens propostas e elaborar o fôlder seguindo o passo a passo da explicação proposta no livro didático na pág. 35 (quarta-feira)- 15/04</li></ul>	Unidade 2
<b>REDACÃO</b>	<ul style="list-style-type: none"><li>➤ REDACÃO:</li><li>➤ Tema: A minha casa.</li></ul>	Caderno de português
<b>GEOGRAFIA</b>	<ul style="list-style-type: none"><li>➤ CONTEÚDO: Recursos naturais pág. 32</li><li>➤ Realizar com atenção a leitura sobre os recursos naturais, destacando os conceitos e respondendo as atividades nas págs. 32 e 33. (quinta-feira)-16/04</li></ul>	Unidade 2
<b>CIÊNCIAS</b>	<ul style="list-style-type: none"><li>➤ CONTEÚDO: O que são os vírus?</li><li>➤ Conceito sobre vírus e atividade (terça-feira)-15/04</li><li>➤ Atividade em folha (sexta-feira) -17/04</li></ul>	

Aluno (a):

Data: 17/04/2020

Turma: 4º Ano

Professor (a): CRISTIANA SALES

ESTUDO DIRIGIDO

BOM ESTUDO!

Dígrafo é o grupo de duas letras representando um só fonema. Quando, em uma mesma palavra, duas letras representam um único som.



**Principais dígrafos**

nh                       
          nho | so

gu                       
          guei | ra | fo

qu                       
          lo | qui

rr                       
          gar | ci | ra

ss                       
          ras | gi | sol

sc                       
          cen | nas | te

sç                       
          ça | cres

xc                       
          ce | to | ex

ch                       
          va | chu

lh                       
          lho | o

**Atividades**

❖ Complete o quadro, observando o modelo.

nº	palavras	soletrando	fonemas	dígrafo
1	chapéu	6	5	ch
2	vizinho			
3	campo			
4	sombra			
5	nascer			



❖ Marque de acordo com a sílaba destacada:

( 1 ) dígrafo      ( 2 ) encontro consonantal

- |               |              |               |
|---------------|--------------|---------------|
| ( ) cegonha   | ( ) trabalho | ( ) placa     |
| ( ) livro     | ( ) ascender | ( ) nascer    |
| ( ) guerreiro | ( ) excursão | ( ) aquele    |
| ( ) massa     | ( ) gravata  | ( ) excelente |



Aluno (a):

Data: 14/04/2020

Turma: 4º Ano

Professor (a): CRISTIANA SALES

ESTUDO DIRIGIDO

BOM ESTUDO!

1- Resolva os exercícios abaixo e coloque ( X ) na alternativa correta.

a) Calcule o perímetro de um retângulo de 8 cm de comprimento por 5 cm de largura :

( ) 26 cm

( ) 25 cm

( ) 24 cm

5M



8M

b) Se eu der 8 voltas ao redor de um terreno retangular de 16 metros de comprimento por 14 metros de largura ,eu andarei quantos metros ?

( ) 260 metros

( ) 480 metros

( ) 240 metros

14M



16M


c) Qual é o perímetro de um retângulo de 2,50 metros de comprimento por 1,20 metros de largura ?

( ) 7,30 m

( ) 7,20 m

( ) 7,40 m

1,20M



2,50M

d) Michael comprou um terreno quadrado com 4 metros em cada lado. Qual é o perímetro desse terreno?

( ) 12 m

( ) 8 m

( ) 16 m

4m



Aluno (a):

Data: 13/0/2020

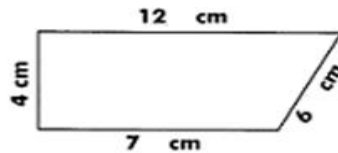
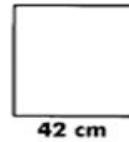
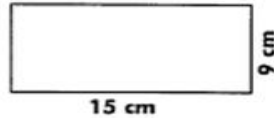
Turma: 4º Ano

Professor (a): CRISTIANA SALES

ESTUDO DIRIGIDO

BOM ESTUDO!

1. Perímetro é a soma da medida dos lados de um polígono.  
Calcule o perímetro das figuras abaixo.



--	--	--	--	--	--

2. Já que você entendeu o que é **perímetro**, agora resolva as questões.

a) Uma quadra de vôlei tem 23 metros de comprimento e 10 metros de largura. Qual é o perímetro dessa quadra.

b) Qual é o perímetro de um quadrado que tem 3 metros de lado.

c) Calcule o perímetro de um retângulo que tem 2,5 metros de altura, e de base, o dobro da altura.

d) Qual é o perímetro de uma sala que tem 3 metros de comprimento e 2 metros de largura.

Aluno (a):

Data: 15/04/2020

Turma: 4º Ano

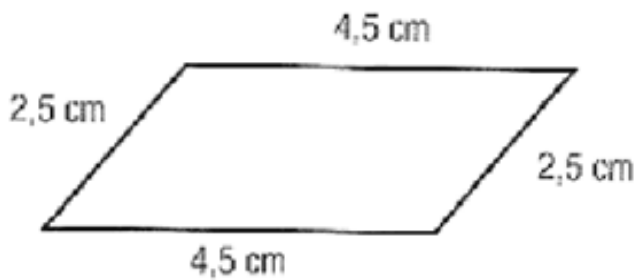
Professor (a): CRISTIANA SALES

ESTUDO DIRIGIDO

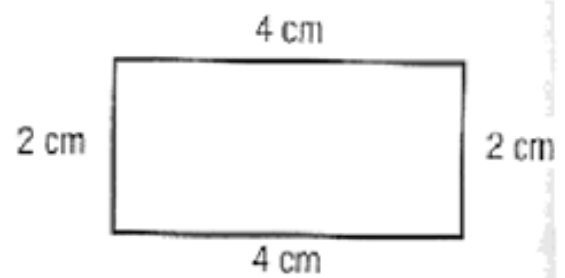
BOM ESTUDO!

Calcule o perímetro de cada polígono em seu caderno.

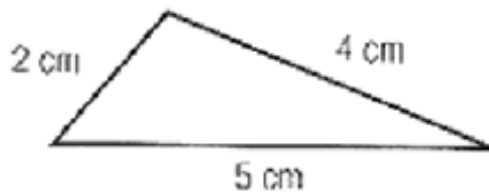
a)



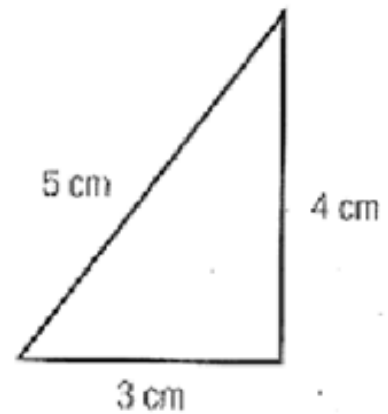
d)



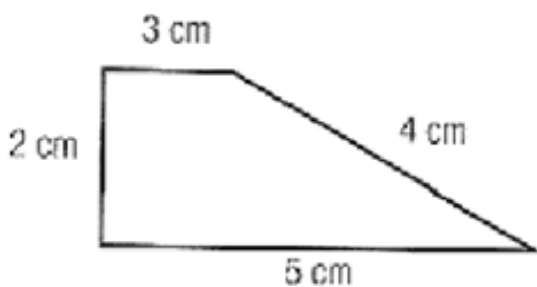
b)



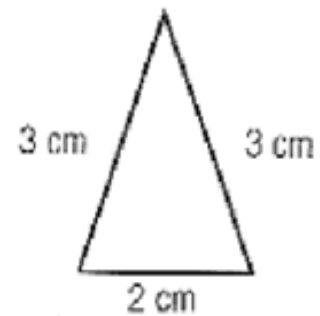
e)



c)



f)



Aluno (a):

Data: 15/04/2020

Turma: 4º Ano

Professor (a): CRISTIANA SALES

ESTUDO DIRIGIDO

BOM ESTUDO!

Objetivo: Entender o termo **vírus**, e o que eles podem causar.

## VÍRUS

do grego **pathos** = doença; **gen** = produzir, gerar

A palavra **vírus** vem do latim e significa **veneno**.

Os **vírus** são seres visíveis apenas ao microscópio eletrônico.

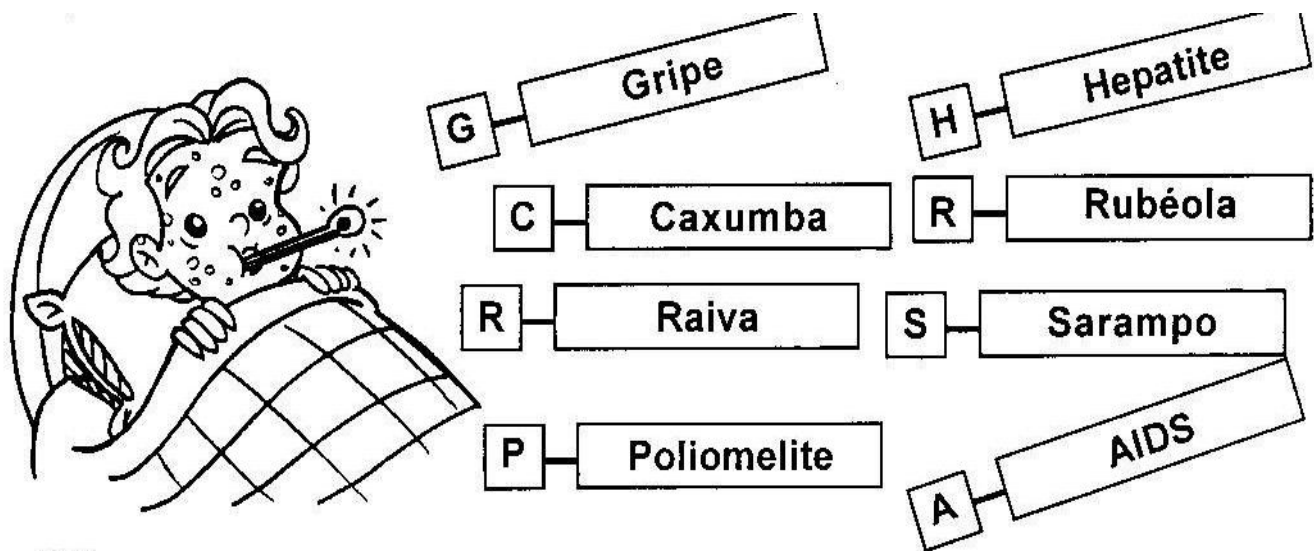
Os vírus vivem em grande quantidade no ar, na poeira, na água, no organismo de outros seres vivos e no solo. Para se reproduzir, o vírus penetra dentro de uma célula sádia e assume o comando, fazendo que ela trabalhe para produzir novos vírus.

Os vírus, ao invadirem um organismo, podem causar doenças, por isso são considerados microorganismo patogênicos.



As doenças causadas por vírus são conhecidas pelo nome de **viroses**. Entre as viroses podemos relacionar: a gripe, o sarampo, a caxumba, a poliomelite, a raiva, a hepatite, a aids, a febre amarela.

Observe os nomes das doenças nos quadros abaixo e identifique-as abaixo usando a primeira letra.



- Doença que causa resfriado, dor no corpo e febre.
- Doença que causa febre e faz o corpo ficar cheio de pintinhas vermelhas.
- Doença causada pela inflamação das parótidas.
- Doença que provoca a paralisia infantil.
- Virose muito grave, que é transmitida, geralmente pelo cão ao homem.
- Os sintomas da doença são fígado aumentado, febre e urina escura.
- Doença que causa febre eruptiva, parecida com o sarampo.
- Virose que impede o organismo de lutar contra infecções, causando a morte.



Aluno (a):

Data: 17/04/2020

Turma: 4º Ano

Professor (a): CRISTIANA SALES

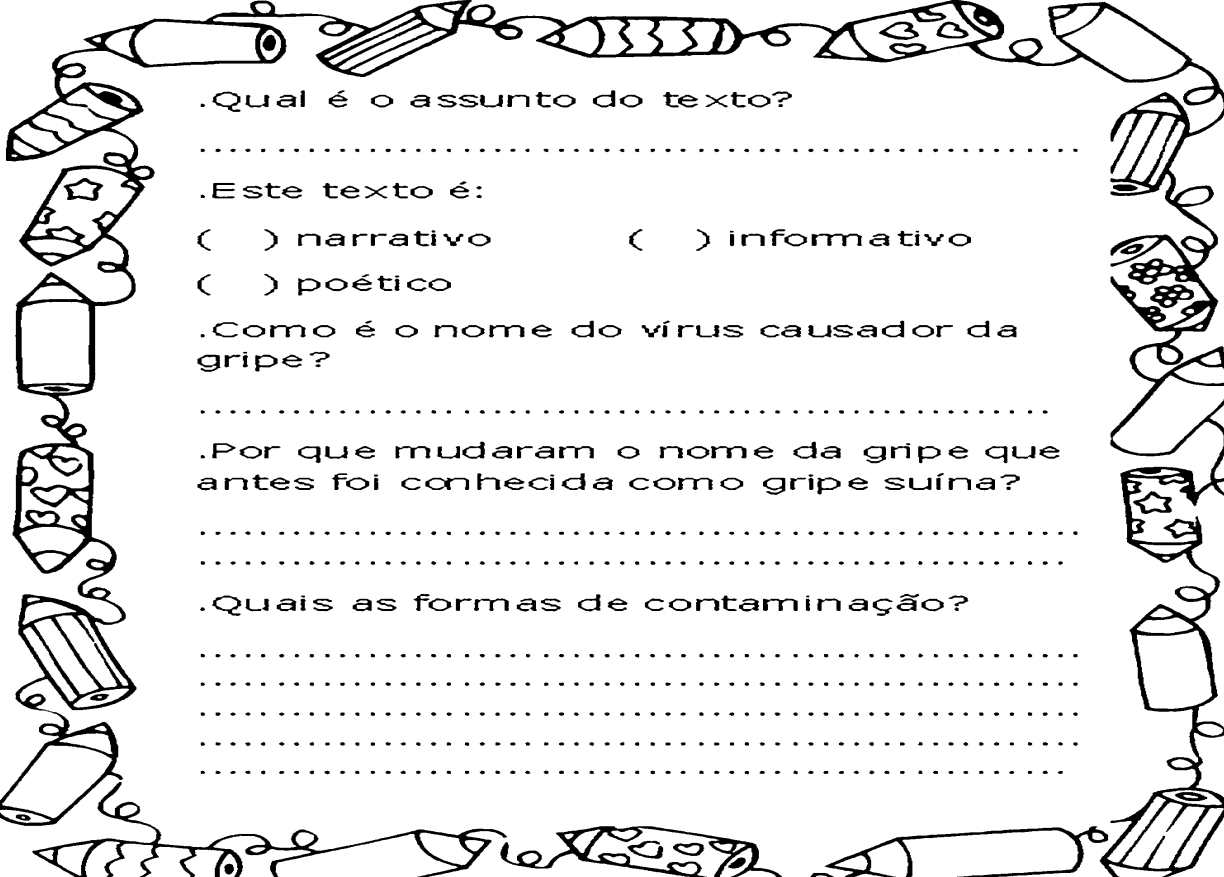
**ESTUDO DIRIGIDO**

**BOM ESTUDO!**

### Gripe Influenza A H1N1 (gripe suína)

A gripe suína é uma doença respiratória causada pelo vírus H1N1. Atualmente o nome da gripe é Influenza A. O nome foi mudado, pois se acreditava que a doença seria transmitida através do consumo de carne e derivados do porco. A contaminação se dá da mesma forma que a gripe comum: pelas vias aéreas, contato direto com a pessoa contaminada ou contato indireto através das mãos com objetos contaminados. Veja como se prevenir:

- Ao tossir ou espirrar, cobrir o nariz e a boca, preferencialmente com lenço descartável;
- Evite locais com aglomeração de pessoas;
- Evite tocar olhos, nariz e boca;
- Lave as mãos frequentemente com sabão e água, especialmente depois de tossir ou espirrar;
- Não compartilhe alimentos, copos, toalhas e objetos de uso pessoal.



.Qual é o assunto do texto?  
.....

.Este texto é:  
( ) narrativo                      ( ) informativo  
( ) poético

.Como é o nome do vírus causador da gripe?  
.....

.Por que mudaram o nome da gripe que antes foi conhecida como gripe suína?  
.....  
.....

.Quais as formas de contaminação?  
.....  
.....  
.....